

- Apprendimenti da verificare e valutazione:

**IL NUMERO**

1) Conta oggetti e immagini facendo corrispondere il simbolo alla quantità e viceversa

- es. n.1 con valutazione p.2
- es. n.2 con valutazione p.2

2) Conta entro il 10 in ordine crescente e decrescente, scrive correttamente i simboli numerici,

colloca i numeri sulla linea, individua il maggiore e il minore

- es. n.3 con valutazione p.1
- es. n.4 con valutazione p.1
- es. n.5 con valutazione p.1
- es. n.6 con valutazione p.1 (dettare i numeri in ordine sparso)
- es. n.7 con valutazione massima p.1,5

3) Riconosce la posizione ordinale dei numeri entro il 10

- es. n.8 con valutazione p.1,5

**GEOMETRIA**

4) Riconosce e denomina forme geometriche piane, riconosce confini e regioni

- es. n.10 con valutazione p.2
- es. n.11 con valutazione p.2
- es. n.12 con valutazione p.1,5

**LOGICA**

5) Classifica oggetti in base a una caratteristica

- es. n.9 con valutazione p.1,5

6) Legge istogrammi

- es. n.13 con valutazione p.2

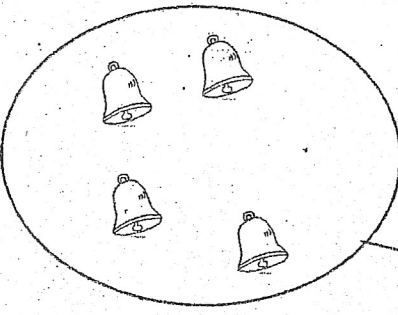
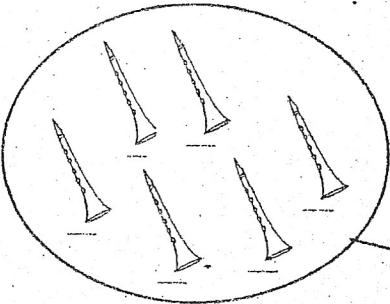
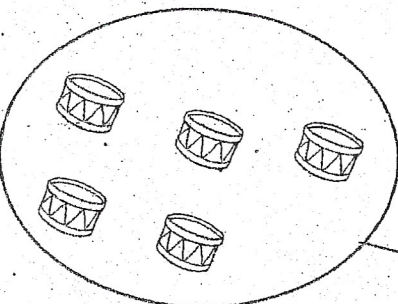
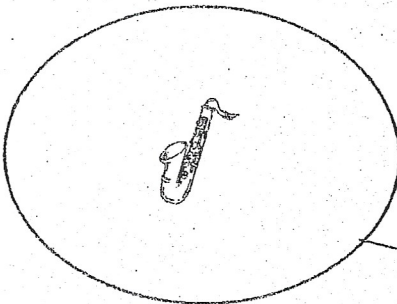
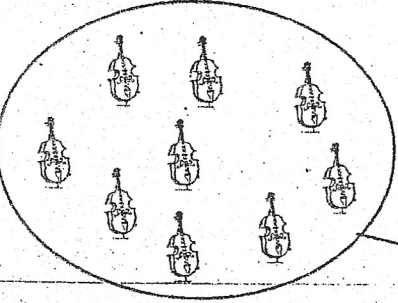

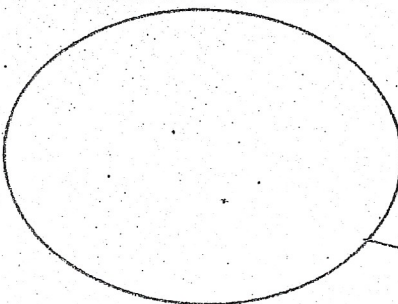
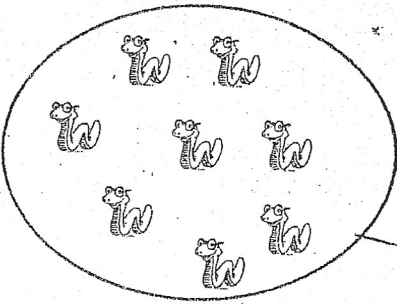
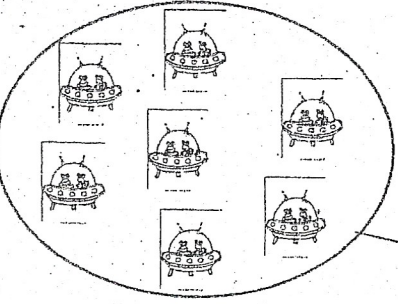
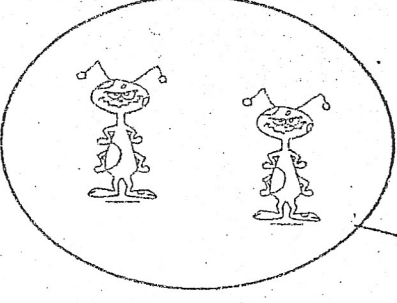
**VALUTAZIONE:**

sommare il punteggio delle prove relative ai tre gruppi, calcolare la percentuale come stabilito nell'Istituto e valutare in decimi.

20 punti = 100%	=	voto 10	13 punti = 65%	=	voto 6,5
19 punti = 95%	=	voto 9,5	12 punti = 60%	=	voto 6
18 punti = 90%	=	voto 9	11 punti = 55%	=	voto 5,5
17 punti = 85%	=	voto 8,5	10 punti = 50%	=	voto 5
16 punti = 80%	=	voto 8	9 punti = 45%	=	voto 4,5
15 punti = 75%	=	voto 7,5	< 9 punti = 40%	=	voto 4
14 punti = 70%	=	voto 7			

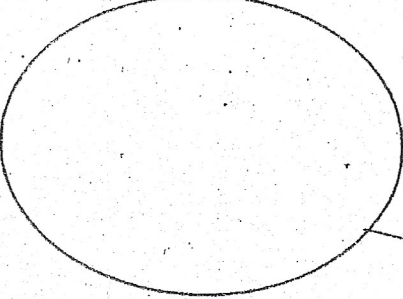
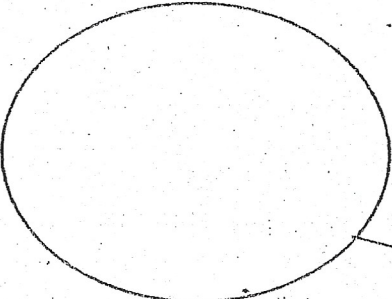
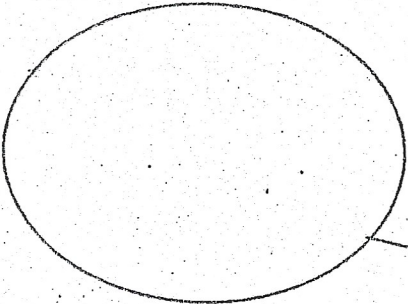
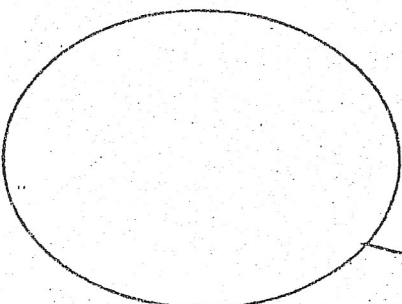
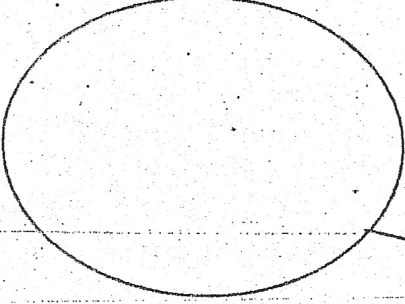
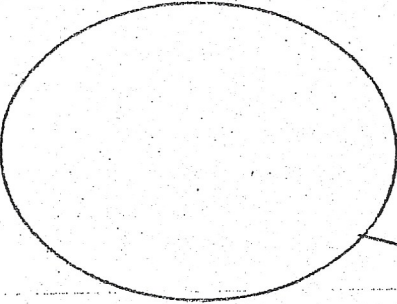

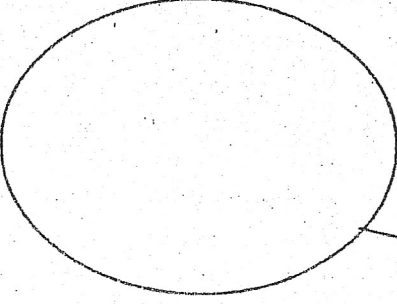
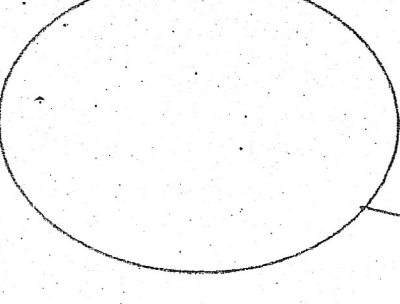
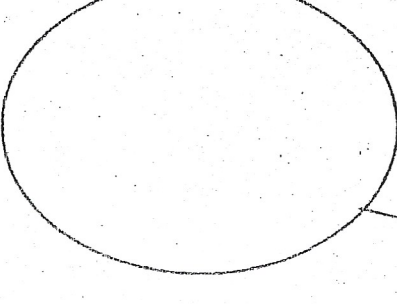
**ESERCIZIO NUMERO 1**

**SCRIVI IL NUMERO CHE CORRISPONDE ALLA  
QUANTITA' DELL'INSIEME**

 An arrow points from the circle to a square box.	 An arrow points from the circle to a square box.
 An arrow points from the circle to a square box.	 An arrow points from the circle to a square box.
 An arrow points from the circle to a square box.	 An arrow points from the circle to a square box.
 An arrow points from the circle to a square box.	 An arrow points from the circle to a square box.
 An arrow points from the circle to a square box.	 An arrow points from the circle to a square box.

## ESERCIZIO NUMERO 2

**IN OGNI INSIEME, DISEGNA UNA QUANTITA' DI PALLINE  
CORRISPONDENTI AL NUMERO NEL RIQUADRO**

 → <b>3</b>	 → <b>5</b>
 → <b>7</b>	 → <b>9</b>
 → <b>4</b>	 → <b>1</b>
 → <b>6</b>	 → <b>2</b>
 → <b>8</b>	 → <b>10</b>

### ESERCIZIO NUMERO 3

METTI IN ORDINE DAL NUMERO MAGGIORE AL NUMERO MINORE

3	6	2	7	9	0	1	5	8	4
---	---	---	---	---	---	---	---	---	---

--	--	--	--	--	--	--	--	--	--

### ESERCIZIO NUMERO 4

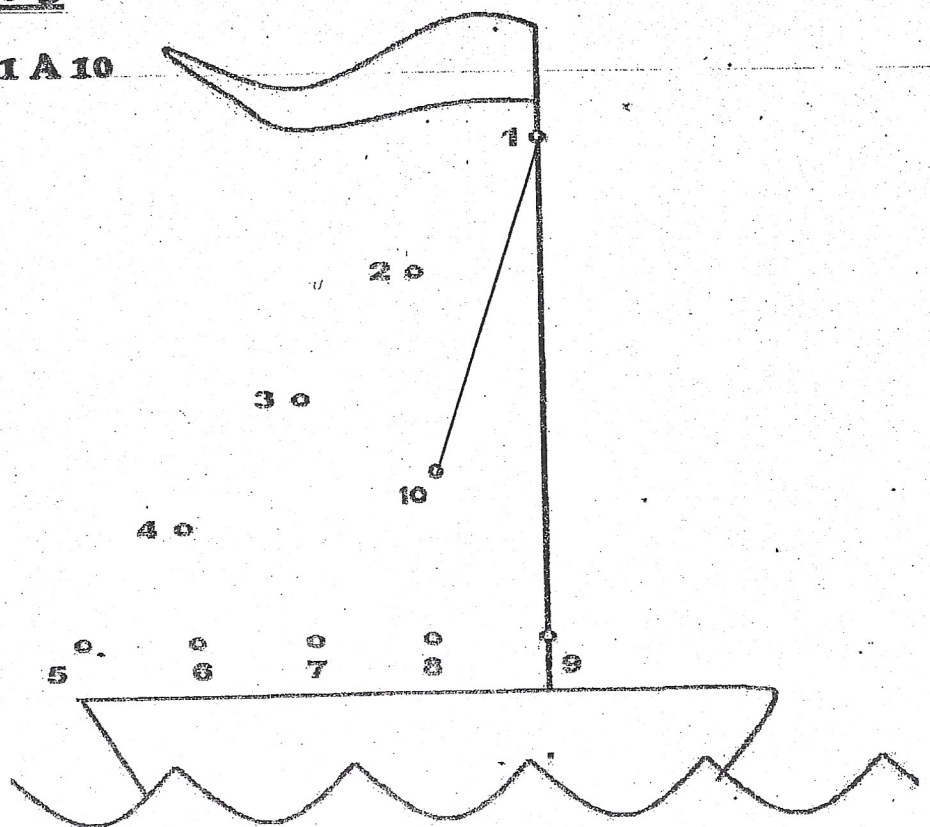
METTI IN ORDINE DAL NUMERO MINORE AL NUMERO MAGGIORE

5	7	2	8	6	4	0	9	1	3
---	---	---	---	---	---	---	---	---	---

--	--	--	--	--	--	--	--	--	--

### ESERCIZIO NUMERO 5

UNISCI I PUNTINI DA 1 A 10



## ESERCIZIO NUMERO 6

### DETTATO DI NUMERI

--	--	--	--	--	--	--	--	--	--

## ESERCIZIO NUMERO 7

CONFRONTA I NUMERI E SCRIVI  $>$   $<$   $=$  NEL  
RIQUADRO

$5 \square 9$

$8 \square 6$

$2 \square 2$

$3 \square 5$

$1 \square 0$

$1 \square 3$

$9 \square 5$

$1 \square 7$

$4 \square 4$

**ESERCIZIO NUMERO 8**

**PARTI DALLA FRECCIA E COLORA SOLO...**

**...IL QUINTO →**

--	--	--	--	--	--	--	--	--	--	--

**...IL TERZO →**

--	--	--	--	--	--	--	--	--	--	--

**...IL DECIMO →**

--	--	--	--	--	--	--	--	--	--	--

**...IL SESTO →**

--	--	--	--	--	--	--	--	--	--	--

**...IL SECONDO →**

--	--	--	--	--	--	--	--	--	--	--

**...IL PRIMO →**

--	--	--	--	--	--	--	--	--	--	--

**...IL QUARTO →**

--	--	--	--	--	--	--	--	--	--	--

**...IL SETTIMO →**

--	--	--	--	--	--	--	--	--	--	--


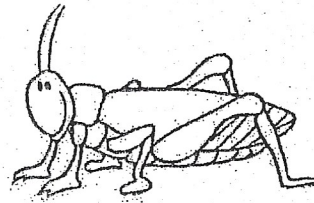

**...IL NONO →**

--	--	--	--	--	--	--	--	--	--	--


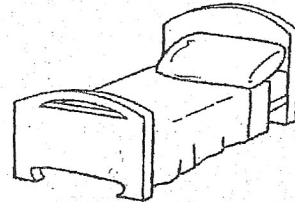

## ESERCIZIO NUMERO 9

TROVA L'ELEMENTO CHE PUO' FAR PARTE DELL'INSIEME E COLLEGALO CON UNA FRECCIA



### ANIMALI DEL MARE



### MOBILI




### DOLCI



**ESERCIZIO NUMERO 10**


**COLLEGA CIASCUNA FIGURA AL NOME CON UNA FRECCIA**



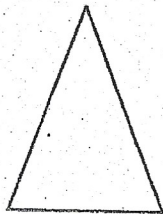
CERCHIO



TRIANGOLO



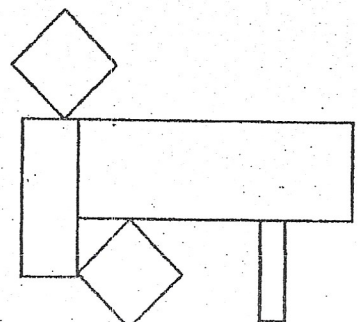
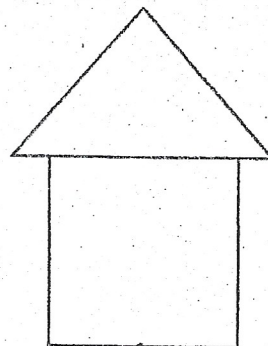
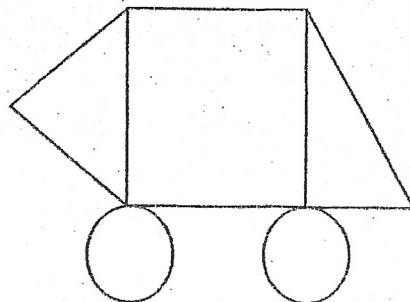
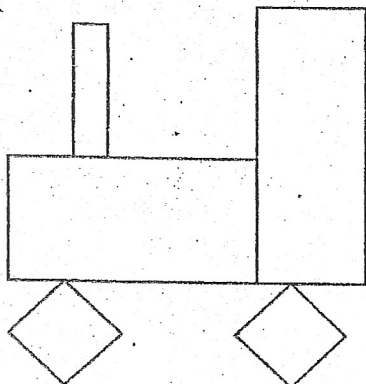
RETTANGOLO



QUADRATO

**ESERCIZIO NUMERO 11**


**COLORA DI GIALLI I QUADRATI, DI ROSSO I RETTANGOLI, DI VERDE I TRIANGOLI E DI BLU I CERCHI**



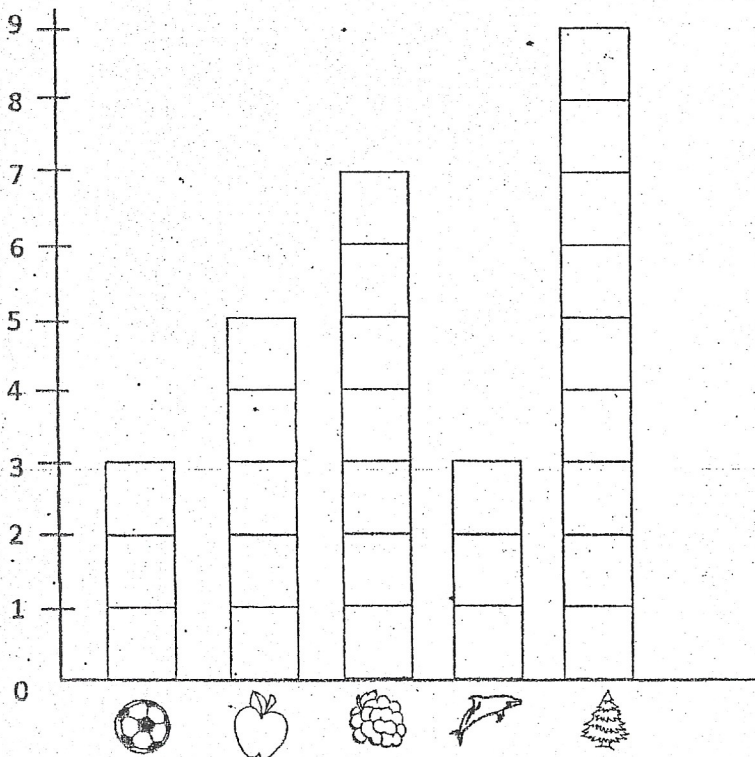


## ESERCIZIO NUMERO 12

**COLORA LA FIGURA SEGUENDO LE INDICAZIONI:**



## ESERCIZIO NUMERO 13: LEGGI IL GRAFICO



**SCRIVI NELLA CASELLA VUOTA IL NUMERO CORRISPONDENTE**

